

2021年度（令和3年度）

第一回入試







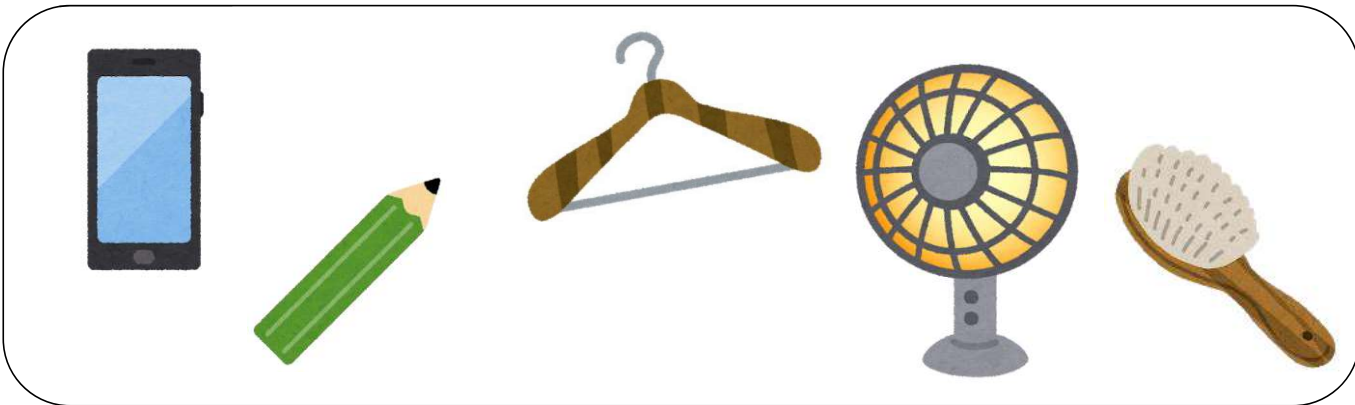

開智小学校（総合部）

Kaichi Comprehensive School

2021年度 第一回入試

ペーパーA







○	
---	--

○	×	
---	---	--

×		○
---	--	---



○		○
---	--	--------------

		○	
--	--	---	--



--	--	--

--	--	--

	○
--	---



--	--	--

--	--



--	--	--	--

--	--

		○
--	--	---



--	--	--

--	--	--	--



--	--	--



--	--	--	--

		○	
--	--	---	--



--	--	--

--	--	--	--	--	--

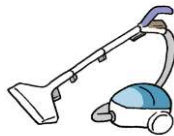


--	--	--	--



--	--	--

			○	×
--	--	--	---	---



--	--	--	--

--	--	--	--	--



--	--	--	--





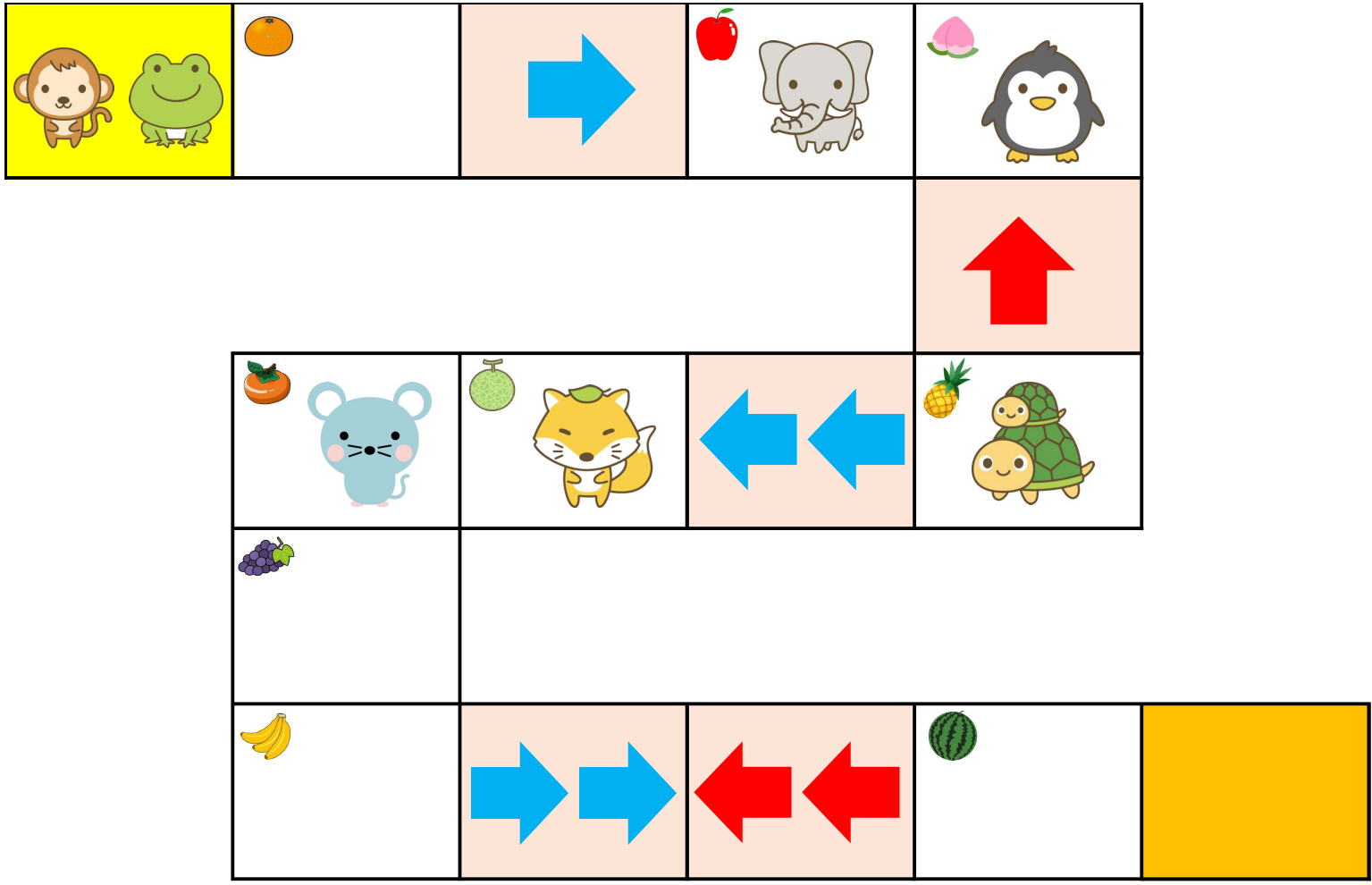
--	--	--	--

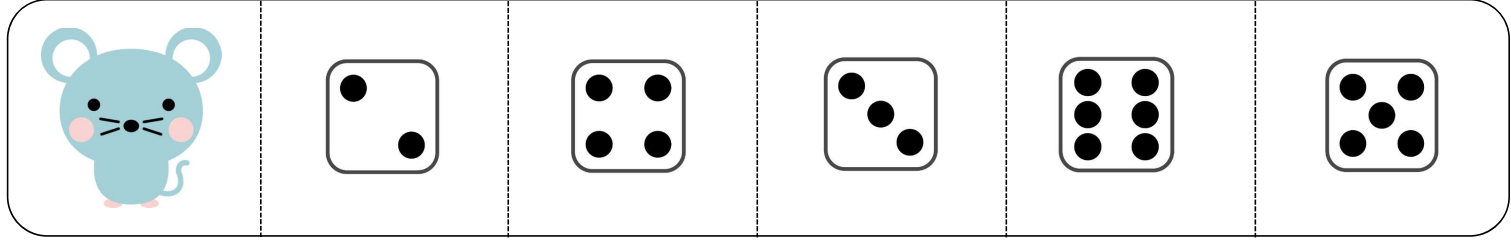
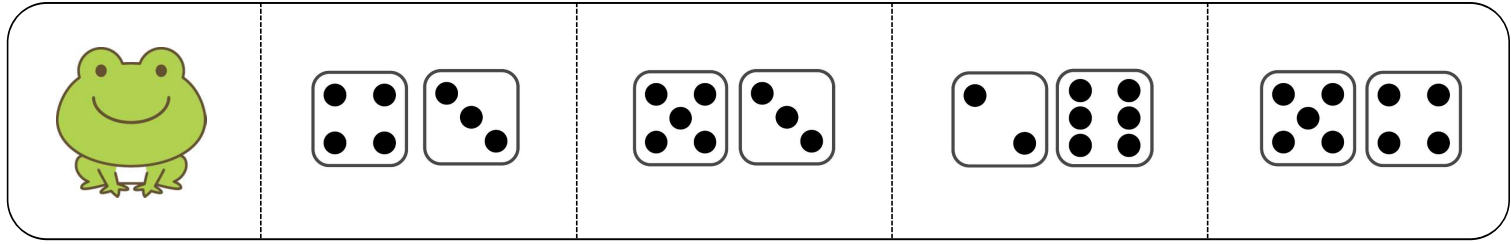

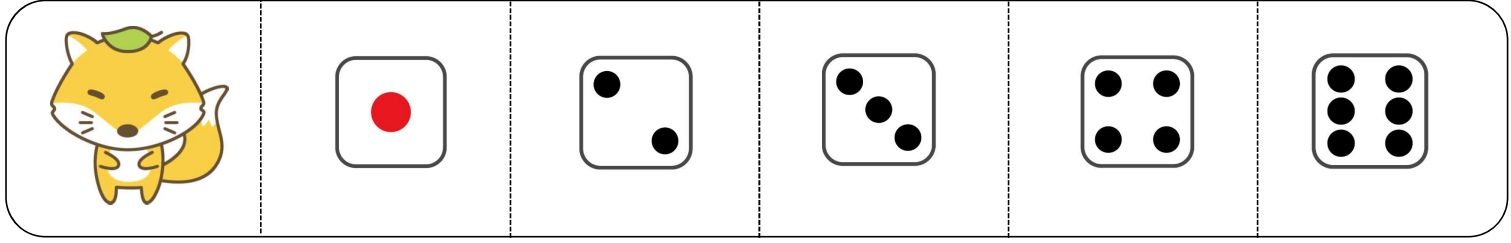
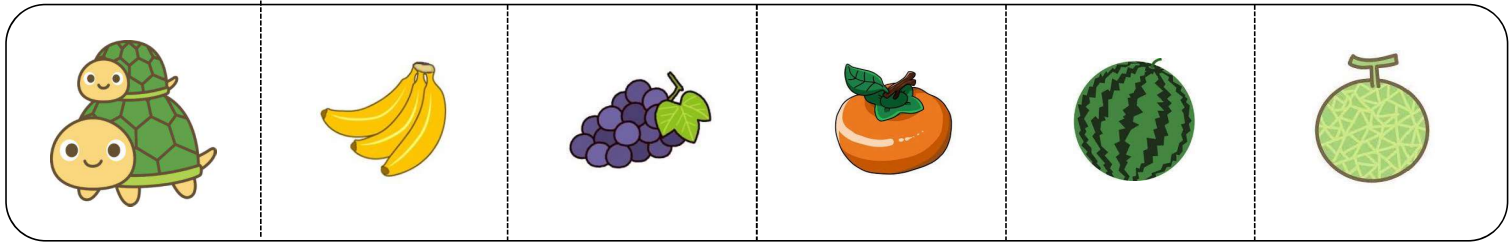
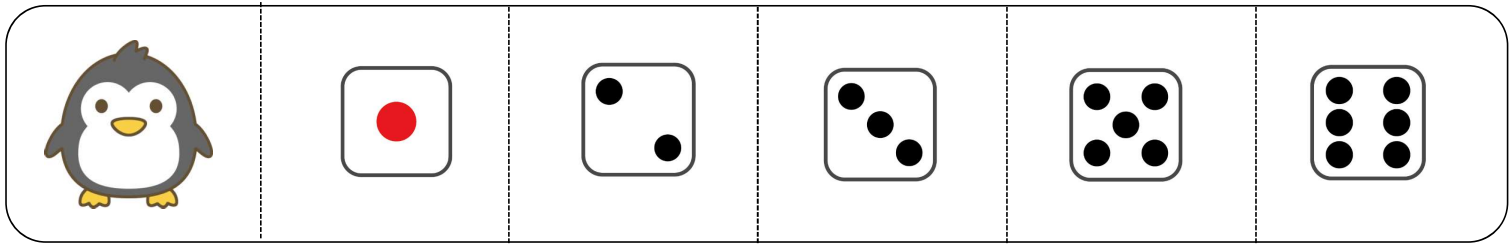
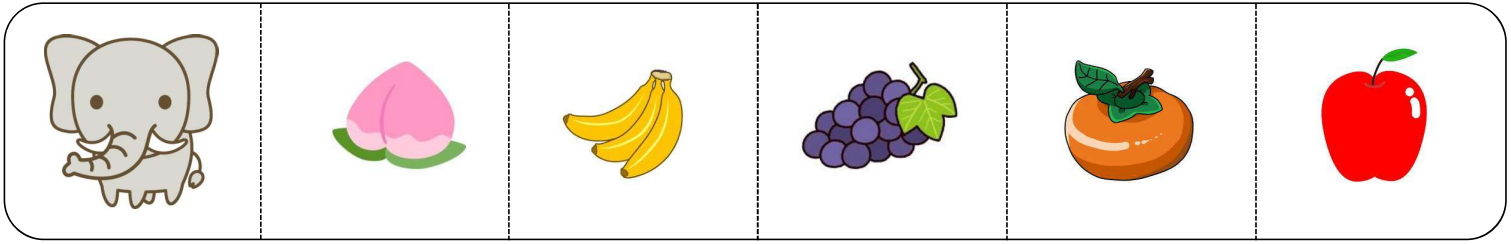

×	○		
---	---	--	--













--	--	--	--	--







--	--	--	--	--	--



























		○	○
			



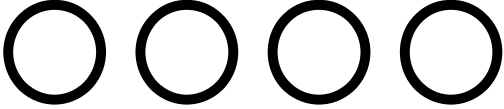
					
					

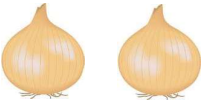

					
					

 	
---	--

  	
--	--

   	
--	--

 	
---	--

  	
--	--

2021年度 第一回入試 ペーパーA 発問文

おはようございます（こんにちは）。

このお部屋では、いろいろな問題にチャレンジしてもらいます。問題の説明は一度しかしませんので、よく聞いてください。先生が「はじめてください」といったら、鉛筆をもってはじめてください。先生が「やめてください」といったら、答えるのをやめて鉛筆を置いてください。では、問題の1枚目を開いてください。

前の画面を見てください。ここに5つの絵が描いてあります。これから3つの文を読みますので、その全てにあてはまるものに、一つだけ○をしましょう。まずは、練習です。

それは、車輪がついています。それは、陸の上を走ります。それは、レールに沿って走ります。さて、それとは何でしょう。この問題では、電車が正解です。そこで、電車に○をつけましょう。もし、間違えて○をした時には、2本の線を引いて、○をつけ直してください。

それでは、本番です。赤い丸の問題を見てください。

それは、運動で使います。それは、手に持って使います。それは、振って使います。さて、それとは何でしょう。では、はじめてください。

次の問題です。白い三角の問題を見てください。

それは、水の中にあるものです。それは、生きものです。それは、大きくなると姿が変わります。さて、それとは何でしょう。では、はじめてください。

次の問題です。赤い△の問題を見てください。

それは、身につけるものです。それは、履くものです。それは、一足二足と数えます。さて、それとは何でしょう。では、はじめてください。

次の問題です。右のページの白い四角の問題を見てください。

それは、食べ物です。それは、皮をむいて食べます。それは、木になるものです。さて、それとは何でしょう。では、はじめてください。

次の問題です。赤い四角の問題を見てください。

それは、お家で使います。それは、かけるものです。それは、洋服に使います。さて、それとは何でしょう。では、はじめてください。

次の問題です。白い星の問題を見てください。

それは、掃除で使うものです。それは、手に持って使うものです。それは、掃くものです。さて、それとは何でしょう。では、はじめてください。

やめてください。次の問題です。赤い星の問題を見てください。

それは、手に持って使うものです。それは、紙につかうものです。それは、切るために使うものです。さて、それとは何でしょう。では、はじめてください。

やめてください。次のページを開いて、前の画面を見てください。

それぞれの絵の下にある四角には、その絵のものの名前が入ります。たとえば、これは「りんご」ですので、下の四角には、「リ・ん・ご」が入ります。この問題では、「りんご」の「リ」に×、「りんご」の「ご」に○の印がついています。右の絵の中で、同じ音が入るところに、同じ印を書きましょう。

そこで、「ごま」の「ご」に○、「ゴリラ」の「ご」に○、「ゴリラ」の「リ」に×、「ごぼう」の「ご」に○、「消しゴム」の「ご」に○をします。もし、間違えた時には2本の線を引いて、直してください。○や×の印をつける場所は、1つとはかぎりません。問題は右のページにも続いていますので、すべての問題に答えましょう。それでは、はじめてください。

やめてください。次のページを開いて、前の画面を見てください。

動物園のお友達が「すごろく」をして遊んでいます。「すごろく」とは、1～6の数が書かれたサイコロをふって、出た数だけマスを進み、ゴールをめざすゲームです。黄色いマスがスタート、オレンジ色のマスがゴールです。これから先生がお話をしますので、よく聞いて、問題に答えましょう。まず、練習です。

今、おサルさんはスタート地点にいます。サイコロをふると「2」が出ました。次に、もう一度サイコロをふると、また「2」が出ました。さて、おサルさんはどのマスについてでしょうか？

おサルさんは、最初に「2」が出たので、2マス進んで、この青い矢印があるマスにつきます。この矢印は1マス進む矢印なので、1マス進み、リンゴのマスにつきます。次にまたサイコロで「2」が出たので、2マス進みます。すると、この赤い矢印があるマスにつきます。これは1マス戻る矢印です。そこで1マス戻って、「桃」のマスにつきました。だから、答えは「桃」です。

そこで、おサルさんの絵の横にある「桃」の絵に○をします。間違えて○をしたときは、二本の線をひきましょう。このように、青い矢印についた時は進み、赤い矢印についた時は戻ります。矢印が2つの時は、2マス進んだり、戻ったりします。では、ここからが本番です。お話をよく聞いて、質問に答えましょう。

最初のお話です。かえるさんは今スタート地点の黄色いマスにいます。サイコロをふると、最初に「3」が出たので、3マス進み、次に、「5」が出たので、5マス進みました。さて、かえるさんは今どのマスにいますか？ ○をつけましょう。では、はじめてください。

やめてください。

次のお話をします。ぞうさんは今、りんごのマスにいます。サイコロをふると「4」が出ました。4マス進むと、青い矢印が2つあるマスについたため、2マス進みました。次にサイコロをふると「2」が出たため、さらに2マス進みました。さて、ぞうさんは今どのマスにいますか？○をつけましょう。では、はじめてください。

やめてください。

次のお話をします。ペンギンさんは、黄色いマスからスタートして、1回サイコロをふっただけで、今いる「桃」のマスにつきました。さて、ペンギンさんは、サイコロでいくつを出したのでしょうか？出したサイコロの目に○をしましょう。では、はじめてください。

やめてください。

次のお話をします。カメさんは、今、パイナップルのマスにいます。そこから3回サイコロをふりました。1回目も2回目も3回目も全て「1」がでました。さて、カメさんは、3回でどこのマスまで進みましたか？○をつけましょう。では、はじめてください。

やめてください。

次のお話をします。ねずみさんは、今、柿のマスにいます。サイコロをふると、「4」がでました。次にきつねさんがサイコロをふりました。すると、ねずみさんと同じマスにつきました。さて、きつねさんはサイコロでいくつを出したのでしょうか？きつねさんが出したサイコロの目に○をしましょう。では、はじめてください。

やめてください。

次のお話をします。おサルさんは、黄色いスタートのマスから2回サイコロを振って、パイナップルのマスまで進みました。おサルさんのサイコロの目はいくつといくつでしたか？あっている組み合わせに○をつけましょう。左に書いてあるのが1回目に出たサイコロの目です。では、はじめてください。

やめてください。

次のお話をします。かえるさんは、黄色いスタートのマスから2回サイコロを振って、メロンのマスまで進みました。かえるさんのサイコロの目はいくつといくつでしたか？あっている組み合わせに○をつけましょう。左に書いてあるのが1回目に出たサイコロの目です。では、はじめてください。

やめてください。

次のお話をします。いま柿のマスにいるねずみさんが、2回サイコロをふったところ、2回とも同じ数がでて、ぴったりゴールすることができました。さて、ねずみさんが出したサイコロの目はいくつでしょうか？あっているものに○をつけましょう。では、はじめてください。

やめてください。次のページを開いてください。

次は、食べ物をみんなで仲良く分ける問題です。前の画面を見てください。

今、ここに2人の絵が描いてあります。この問題では、2人で仲良く分けられるものを選びます。バナナは3本あるので、2人で分けると1本余ってしまいます。キャンディは4つなので、2つずつに分けられます。また、イチゴも仲良く1つずつに分けられます。そこで、キャンディとイチゴの上に○をつけます。このように、左側に書いてある絵の人数で、仲良く同じ数ずつ分けられるものに○をつけましょう。3人の絵の時は3人で、4人の絵の時は4人で、仲良く分けられるものを選びます。答えは一つだけとは限りません。上手に分けられるものには全て○をつけましょう。間違えた時は、二本の線をひきましょう。左側のページが終わったら、鉛筆をおいて待っていきましょう。では、はじめてください。

やめてください。

次は右のページの問題です。前の画面を見てください。

この表はお野菜の値段の表です。たとえば、たまねぎはコイン1枚で2つ買うことができます。にんじんはコイン1枚で1本、ブロッコリーはコイン2枚で1つ買うことができます。この値段の表を見ながら、書いてある野菜を全て買うために、コインが何枚必要なのかを考えます。では、練習です。

この絵をみてください。

たまねぎ2つとキャベツを1つ買うには、コインが何枚必要ですか？

たまねぎ2つを買うために、コインが1枚必要です。そして、キャベツ1つを買うために、コインが3枚必要です。全部で4枚のコインが必要ですので、○を4つ書きましょう。

このように、描いてある野菜を買うために必要なコインの数だけ○をつけましょう。間違えた時は、二本の線をひきましょう。では、はじめてください。

やめてください。

これで、このお部屋の問題は終わりです。先生の指示を聞いて、次のお部屋に行きましょう。

2021 度 第1回入学試験「作業」概要

使用した道具

○学校で準備したもの

・画用紙(白) ・画用紙(栗色・クマの形が印刷されているもの)

・折り紙 ・お手拭き(使い捨てのもの) ・ゴミ箱

○各自で持参していただいたもの

・クレヨン ・スティックのり ・はさみ

発問・作業の流れ

- ①お家から持ってきた道具(クレヨン・のり・はさみ)を、机の上に置く。
- ②「くまさんのお話」を聞き、くまさんがお出かけする場所、着ていく服を想像する。
- ③白い画用紙(横書き)に、くまさんがお出かけする場所をクレヨンで描く。
- ④栗色の画用紙に印刷されたくまさんを、はさみで切りとる。
- ⑤お出かけする場所を描いた画用紙に、のりを使ってくまさんを貼り、クレヨンで顔を描く。
- ⑥くまさんに、お出かけ先にぴったりの服を作る。

折り紙を切ったりちぎったりして作り、それをのりで貼る。

- ⑦片付けをする。

以上

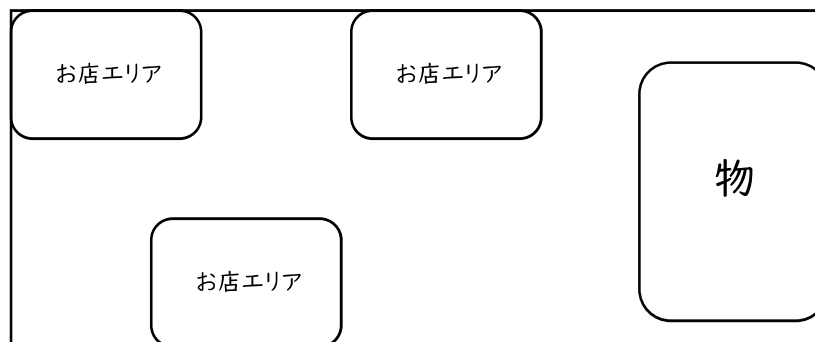
2021年度 第1回入学試験「行動観察」概要

テーマ：「みんなが楽しめるお祭り会場を作ろう」

用意された道具を使い、みんなで協力して、楽しい「お祭り会場」をつくる。
つくった「お祭り会場」で、お客さん役・店員さん役にわかれて遊ぶ。

発問・作業の流れ

- ①部屋をお祭り会場にすることを説明する。
- ②部屋の中にあるいろいろな物（箱、机、魚、毛糸、綿、おもちゃなど）をつかって屋台をつくる。
- ③できあがったお祭り会場で、実際に遊んだり、かき氷や焼きそばを売ったりする。
- ④使ったものを片付けて作業終了。

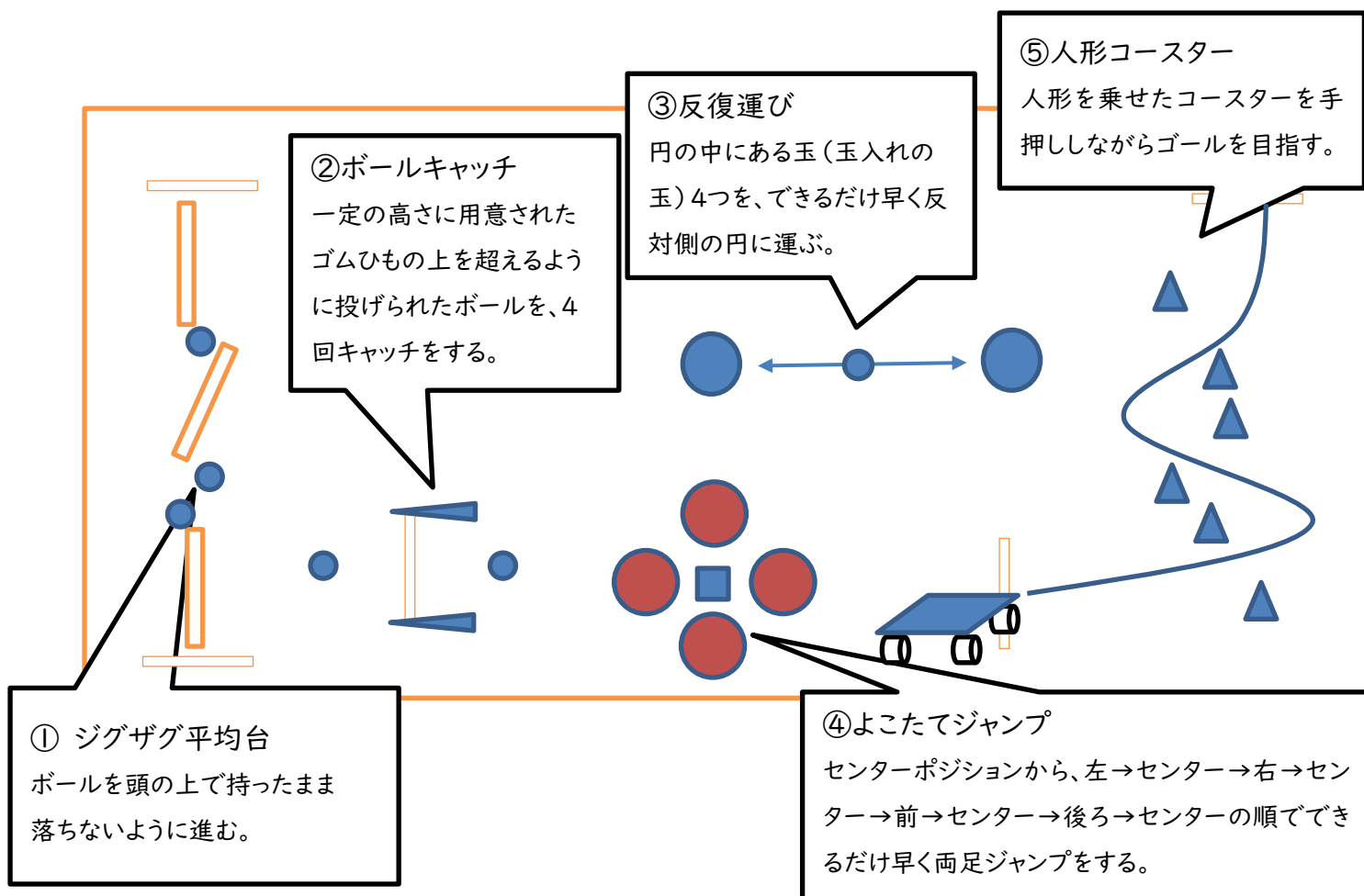


以上

2021年度 第一回入学試験「運動」概要

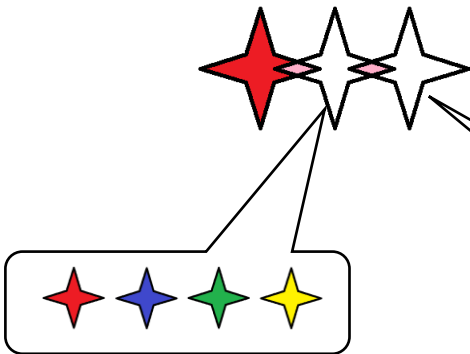

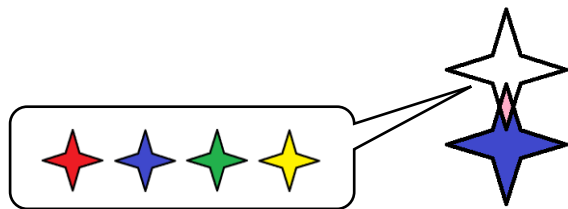
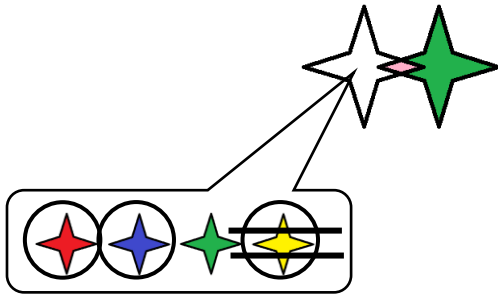


方法：①～⑤の運動のやり方を説明しながら、模範を示した後、全員に1回練習させる。

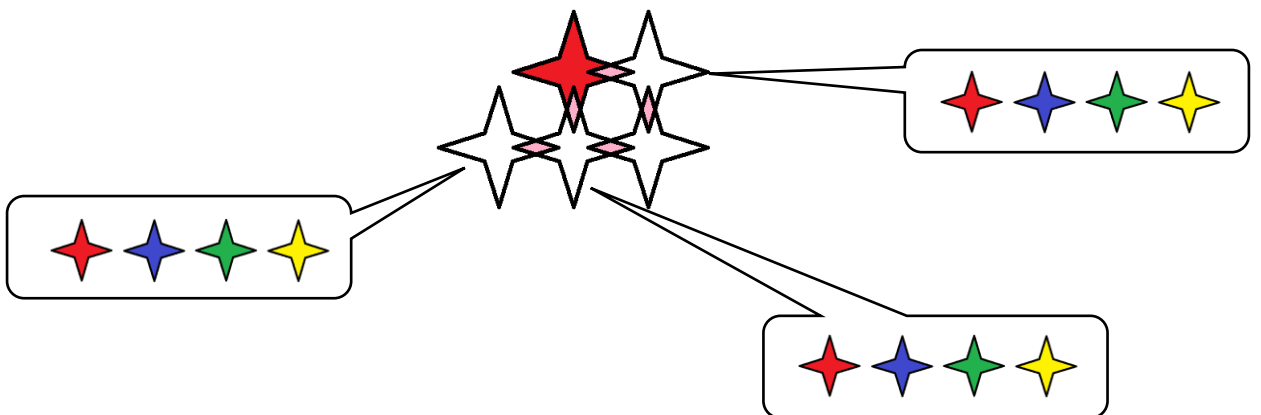
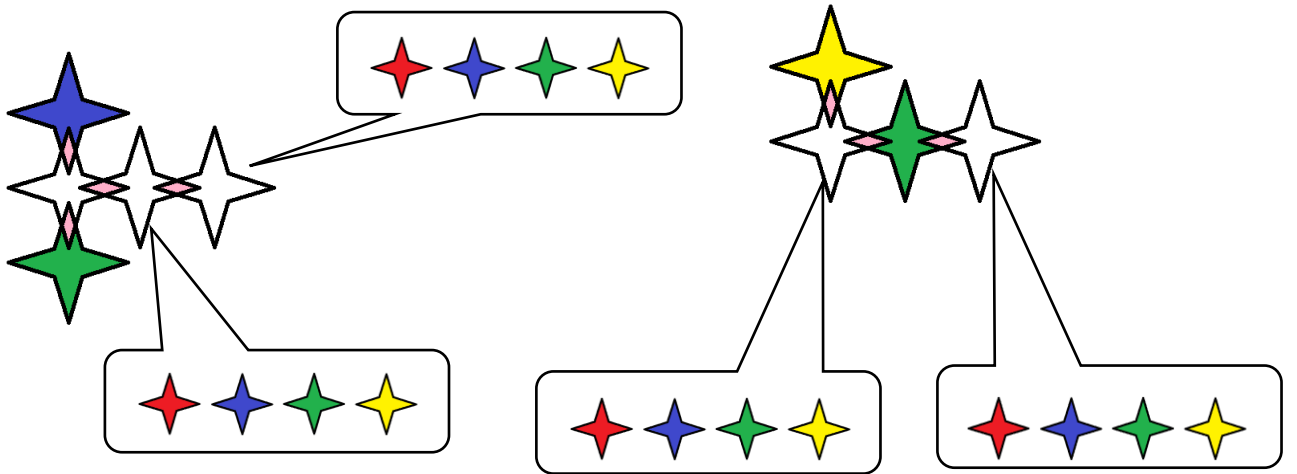
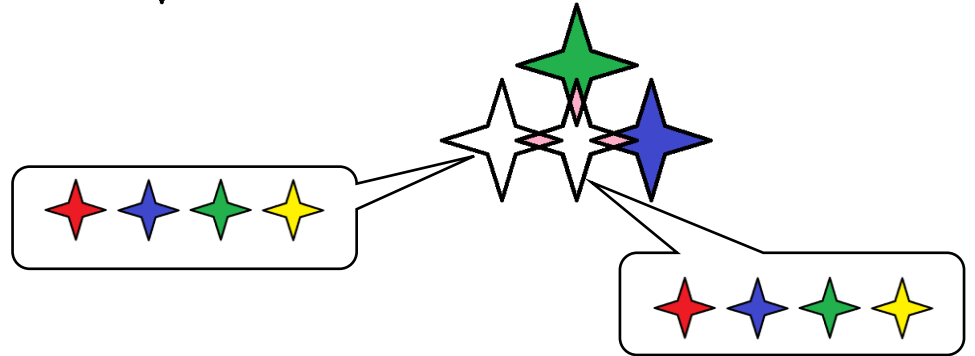
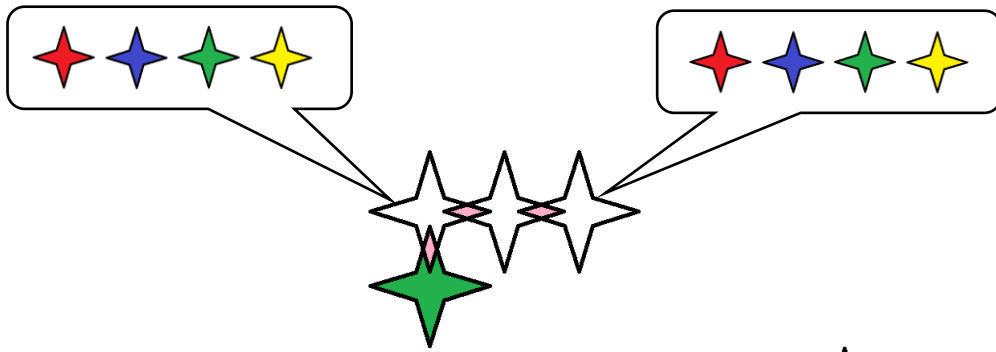
①～⑤を順番に実施する。

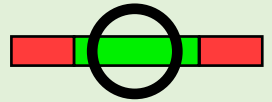
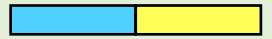
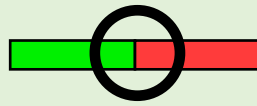
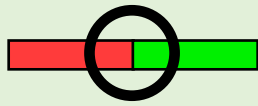
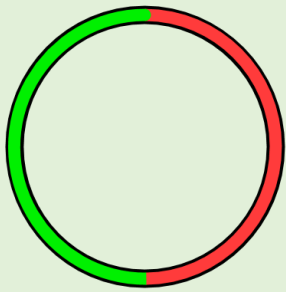




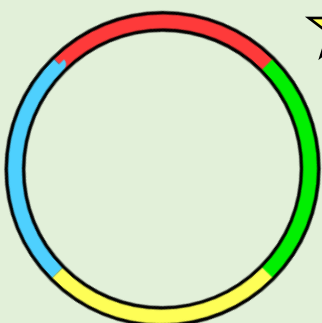





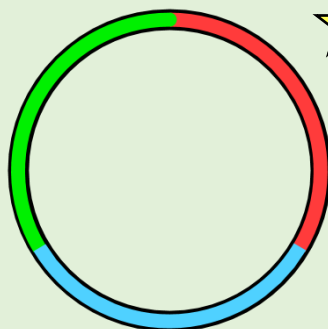
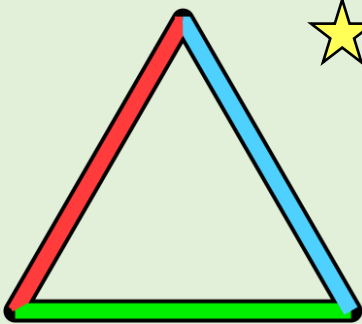


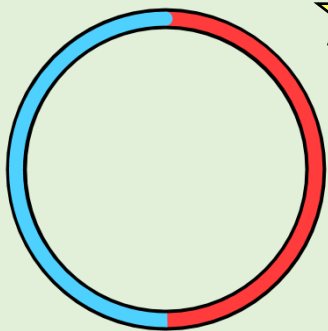
2021年度 第一回入試

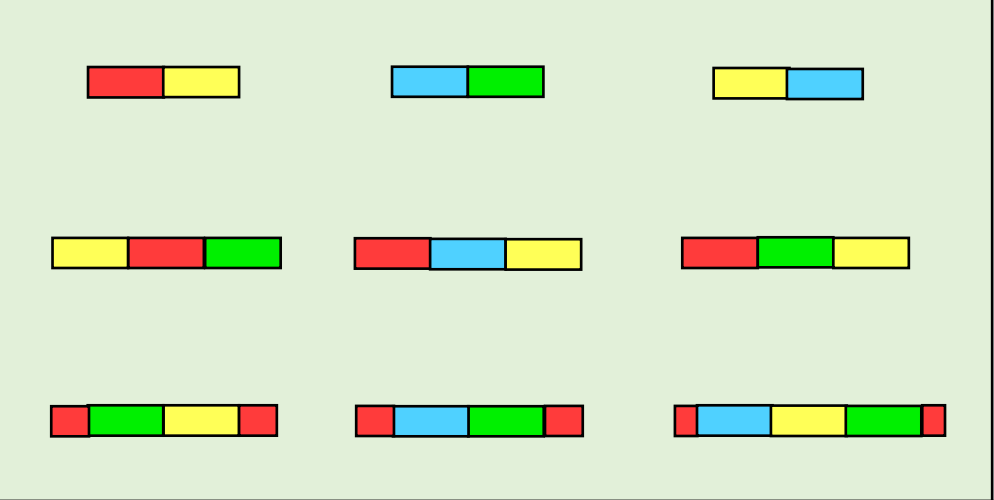

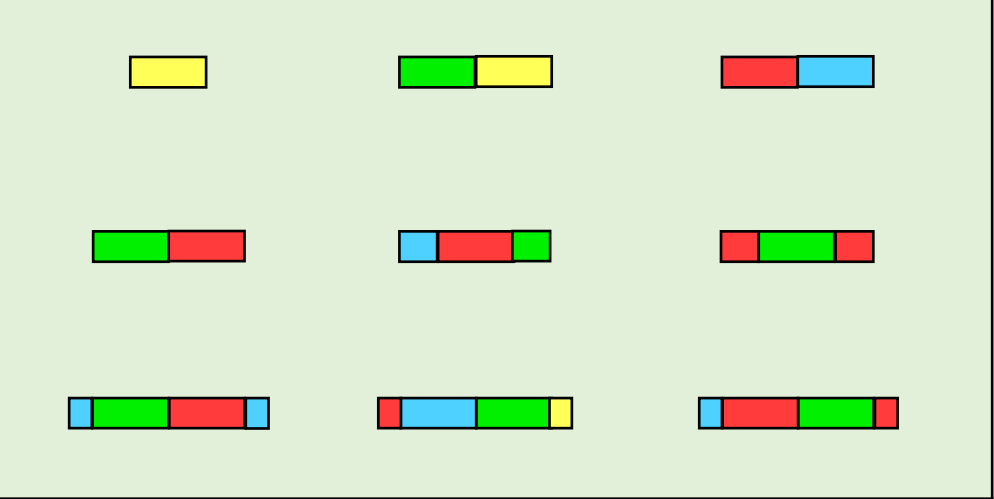
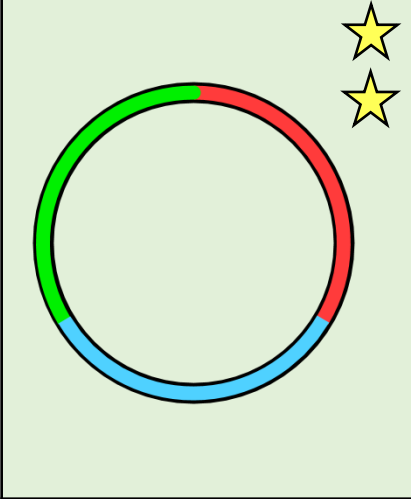
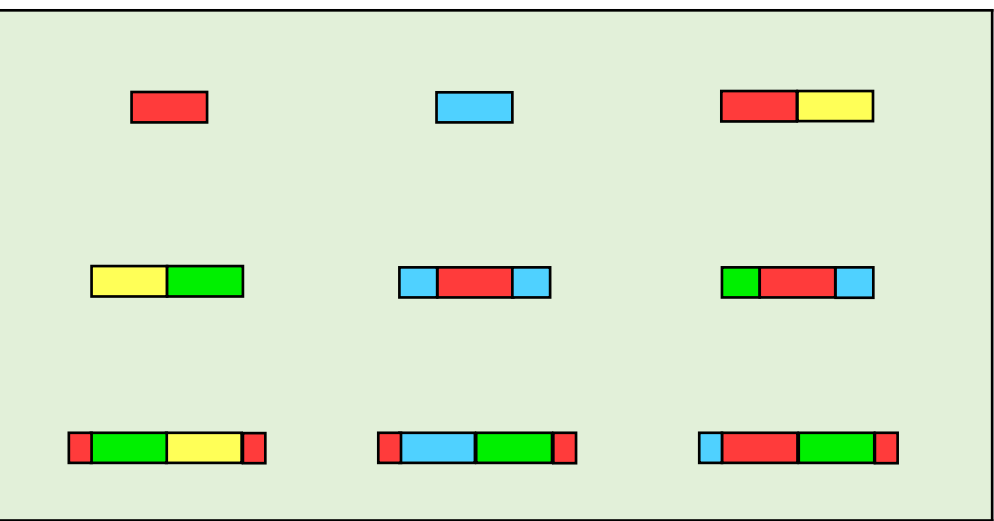
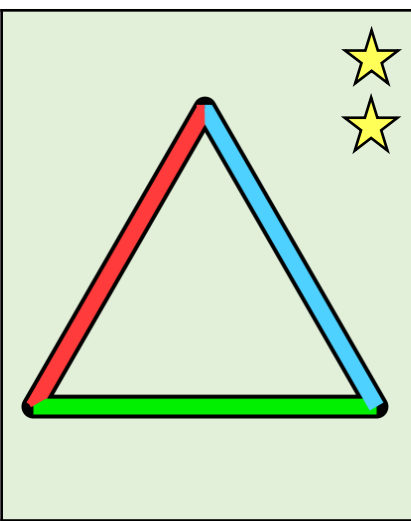
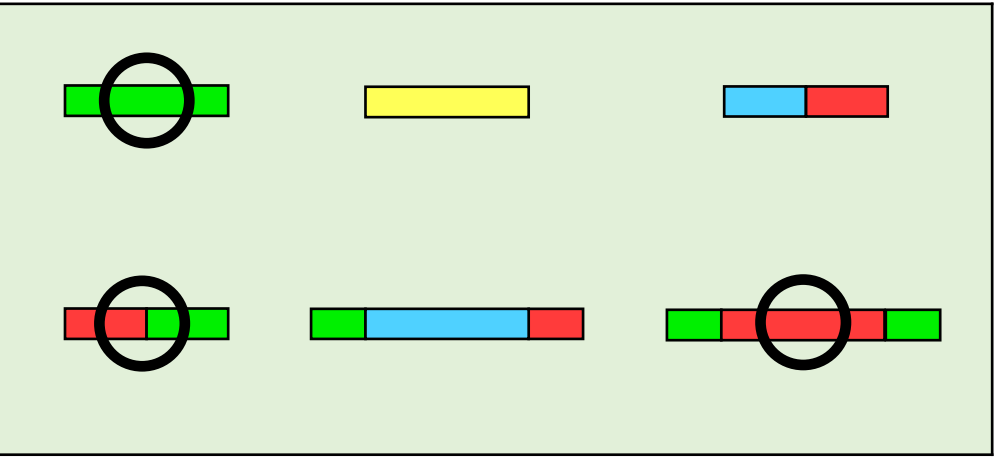
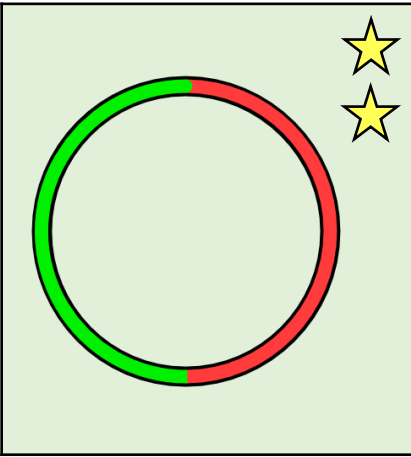
ペーパーB

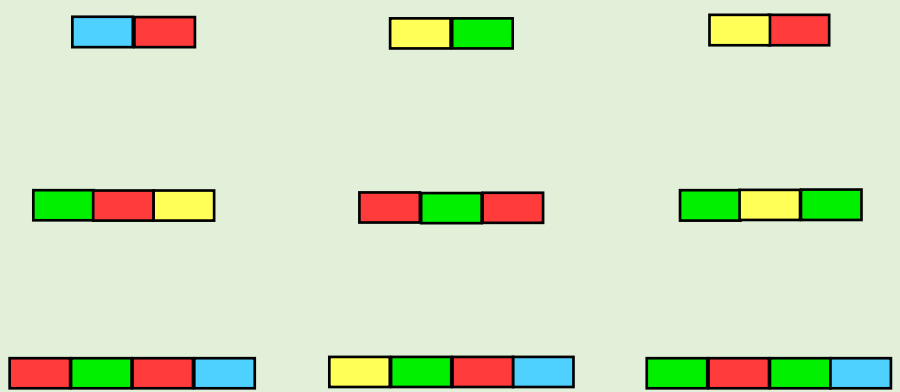
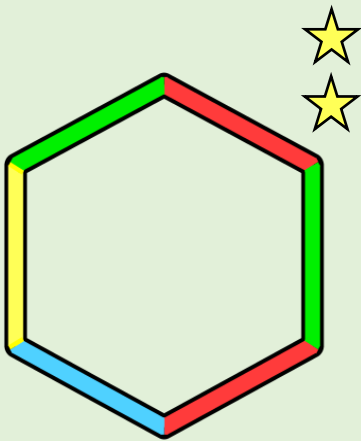
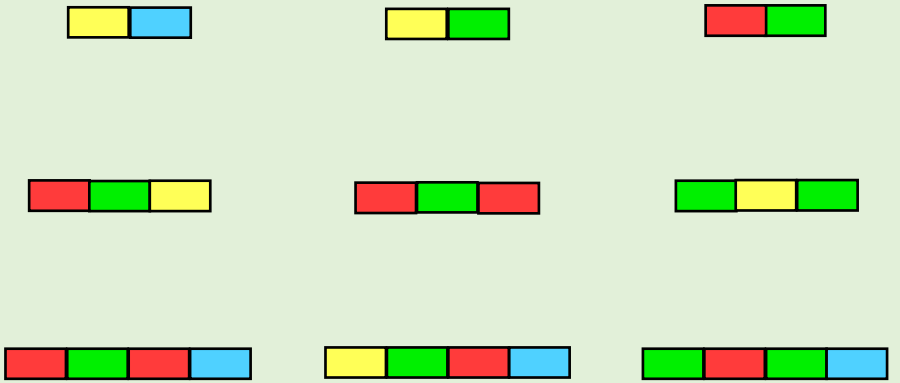
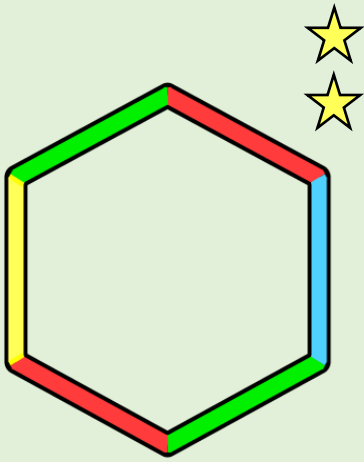
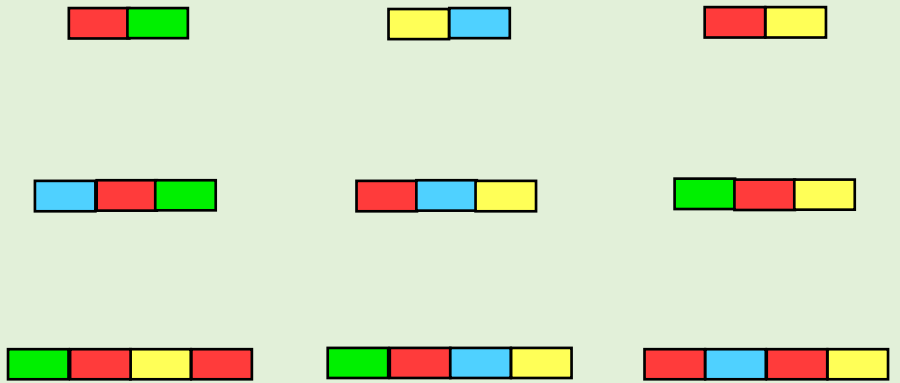
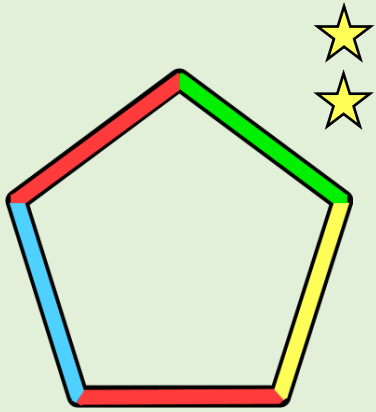
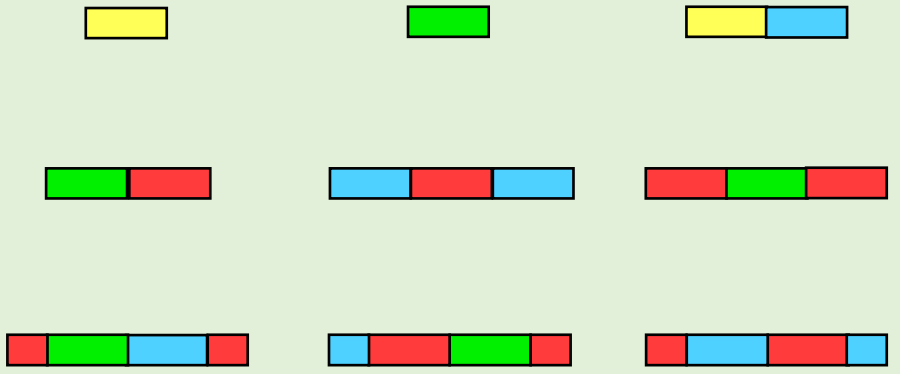
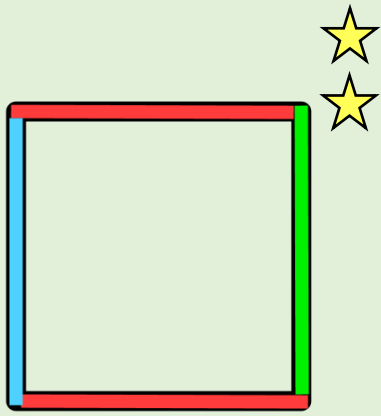


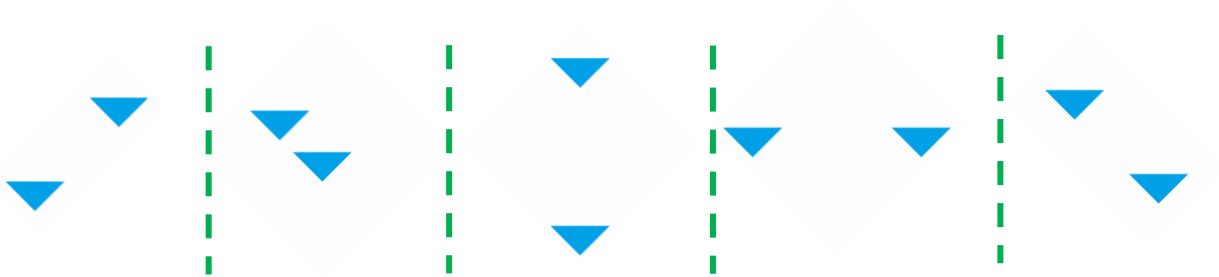
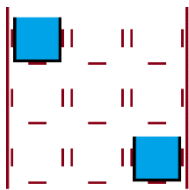

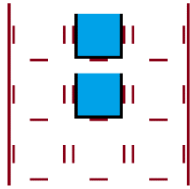
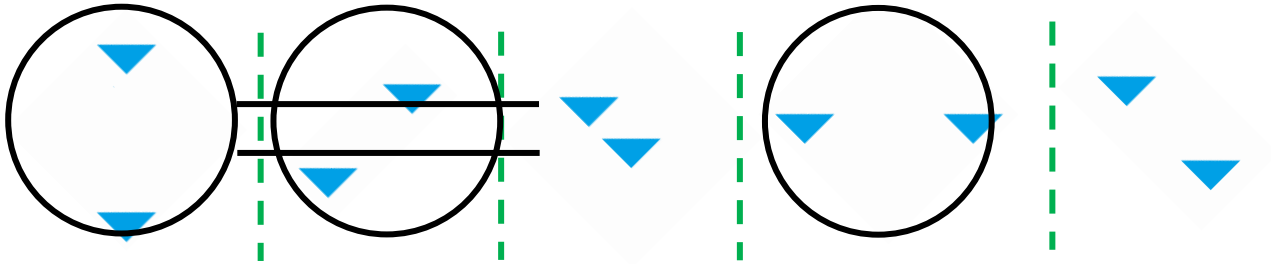
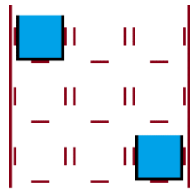


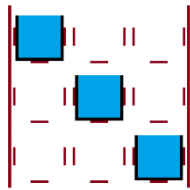
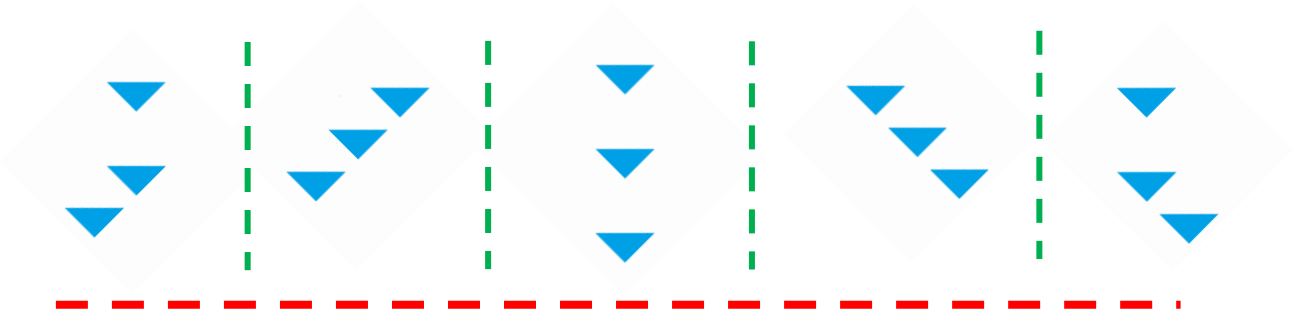
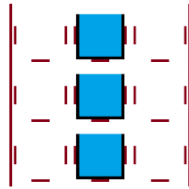
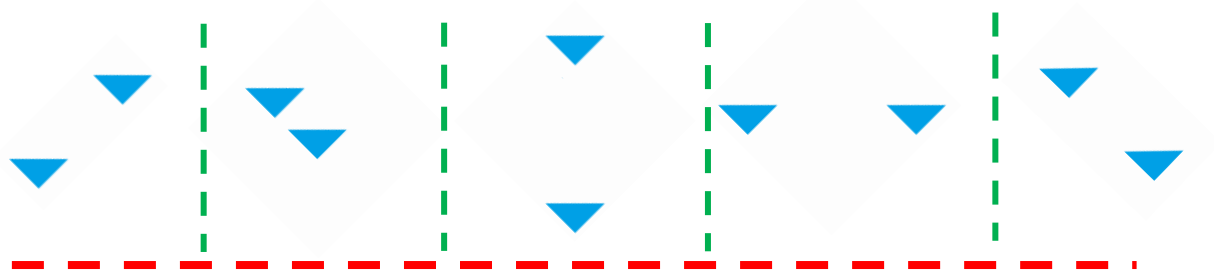
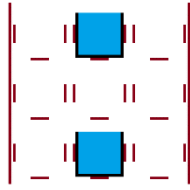



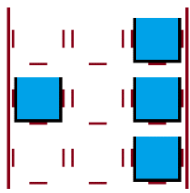
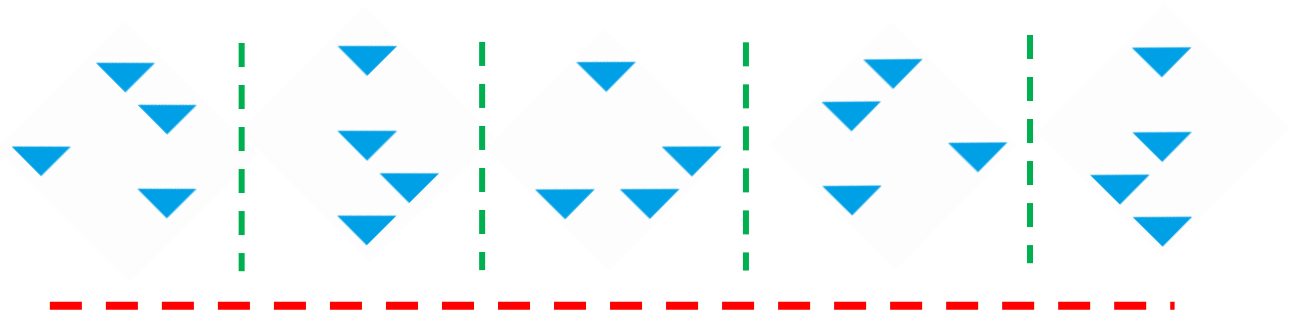
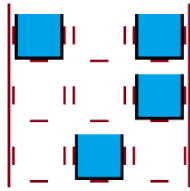
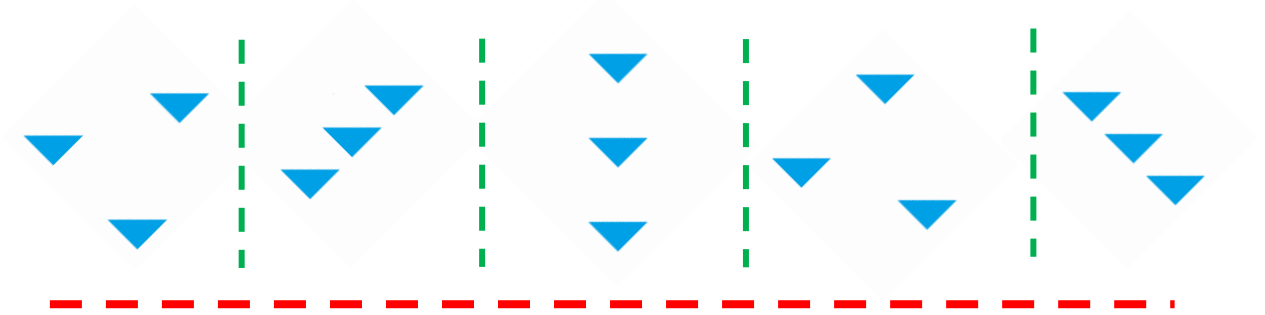
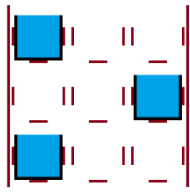


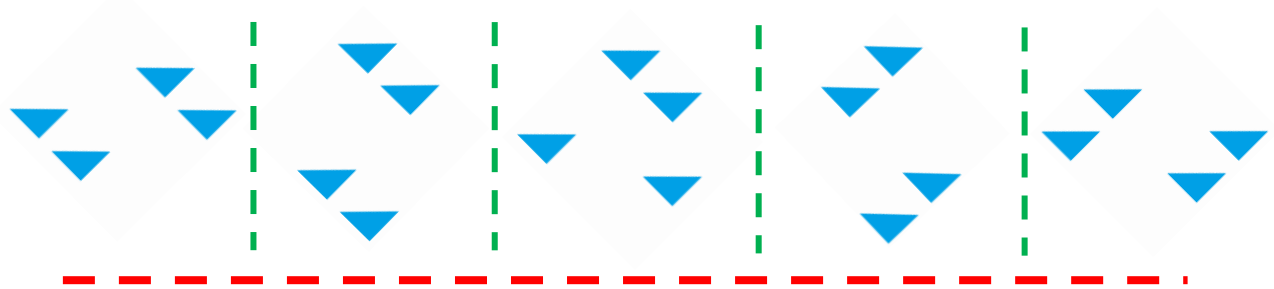
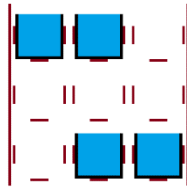
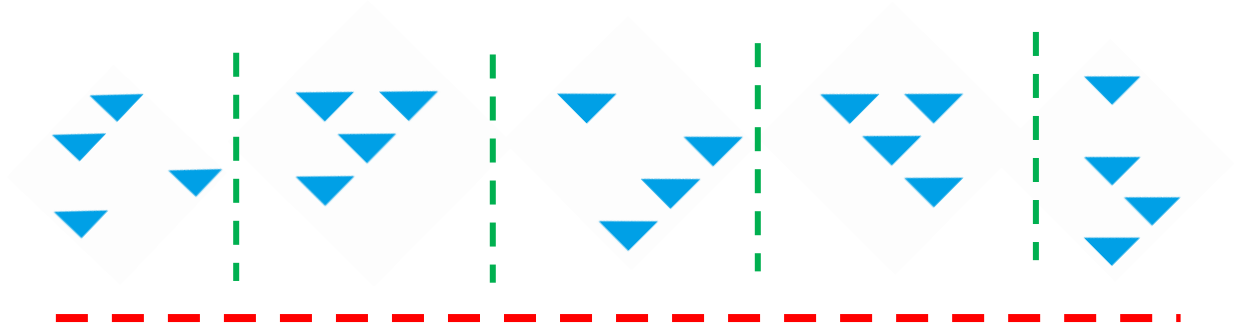
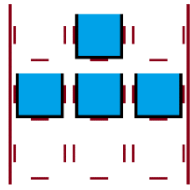












2021 年度 第一回入学試験 ペーパーB 発問文

(※すべて発問文は、スライドを提示しながら説明します)

ここは、ペーパーB のお部屋です。今から、ペーパーB についてのお話をします。お話は、一回しかしないので、よく聞いてください。試験は、「始めて下さい」と言われたら、始めて下さい。

「やめて下さい」と言われたら、鉛筆を置いてやめて下さい。では、ページをめくって下さい。

ここには、赤、青、緑、のヒトデが一匹ずつ、黄色のヒトデが2匹います。

これらのヒトデは、お互いに手をつないで、色々な形を作ります。

これらのヒトデの塊をよく見ると、くっつき方に何か決まりがあるようです。では見てみましょう。

ここでは、緑のヒトデも、青のヒトデも、一つの手がつながっています。

ここでは、赤のヒトデも青のヒトデもそれぞれ一つの手でつながっていますが、黄色は、これらとは違い、二つの手でつながっています。

これは、赤のヒトデと青のヒトデが、それぞれ一つの手でつながっていますが、黄色は、赤と青のヒトデとは違って、二つの手で、つながっていますね。

これはどうでしょう。緑、青、赤のヒトデは、みんな、一つの手でつながっているのですが、黄色のヒトデだけは、二つの手でつながっているもの、3つの手がつながっているものがありますね。

どうやら、一つの塊の中では、繋がっている手の数が、赤、青、緑、では同じなのですが、黄色だけは、違うみたいです。

これらを見て下さい。

このヒトデには色がついていません。良く見ると、一つの手でつながっていますね。また、ここでは、青のヒトデが、一つの手でつながっているの、この色のわからないところは、赤のヒトデか、緑のヒトデになるはずですね。なので、赤のヒトデに○をします。また、緑のヒトデかもしれないので、緑のヒトデにも○をします。おっと、間違えてしまいました。間違えたときには、線で消して、正しいと思うものに○をしてください。

次にこれはどうでしょう。ここでは、赤のヒトデが二つの手でつながっているの、これ(色の無いヒトデ)は、赤と同じ二つの手でつながっているの、この色は、青か緑になりますね。なので、青と緑に○をつけます。これは、手が一つでつながっているの、赤とは違いますね。なので、黄色になります。このヒトデも3つつながっているの、赤とは違いますね。なので、黄色ですね。このように、色のついていないところの、正しいと思える色、全てに○をつけましょう。では、始めて下さい。

やめて下さい。次のページをめくって下さい。

こちらを見て下さい。

この丸を、ここでハサミで切って、まっすぐに伸ばすと、こうなりますね。では、色が付いた丸をハサミで切ってまっすぐに伸ばすと、どうなるでしょうか。

これを、ここで切ってまっすぐに伸ばすと、こうなりますね。ですから、これに丸を付けます。

ここで切ってまっすぐに伸ばすと、こうなりますね。ですから、これに丸を付けます。

ここで切ってまっすぐに伸ばすと、こうなりますね。ですから、これに丸を付けます。

これらは、どこで切ってもこうならないので、何もしません。

このように、これらの形をどこか 1 か所ハサミで切ってまっすぐに伸ばしたときに、どの色の順番になるかを考え、正しいと思うものに丸をつけましょう。もし間違えて丸を付けてしまったときは、2 本線で消してください。

それでは、このページの問題をすべて解いてください。答えはすべて3つずつあります。それでは、始めてください。

やめてください。次のページを開いてください。

今度は、これらの形を 2 か所ハサミで切ったときにどうなるかを考えてみましょう。

これを、こことここで切ってまっすぐに伸ばすと、こうなりますね。ですから、これに丸を付けます。

こことここで切ってまっすぐに伸ばすと、こうなりますね。ですから、これに丸を付けます。

こことここで切ってまっすぐに伸ばすと、こうなりますね。ですから、これに丸を付けます。

このように、これらの形をどこか2か所ハサミで切ってまっすぐに伸ばしたときに、どの色の順番になるかを考え、正しいと思うものに丸をつけましょう。

このページの問題をすべて解いてください。答えはすべて4つずつあります。それでは、始めてください。

やめてください。

次のページを開いてください。

これを見て下さい。ここに水を入れます。これをこのようにななめにすると、水はこぼれてこのようになりますね。

こんどは、このようにななめにすると、やはり、水はこぼれて、このようになりますね。つまり、水の入ったコップをななめにすると、水はこぼれて、これらのようになりますね。もし、ここで、**水だけが見えた**とすると・・・、このような、模様になるはずです。

では、これを斜めにすると、どうなるでしょう？これと、これになりますね。なので、水だけが見えたとすると、このような模様になります。

なので、これをななめにすると、水だけの模様は、これと、これに、なりますね。

なので、これらに○をします。間違ってしまったときは、二本線で消してください。

答えは、それぞれの問題に、2 つあるので、正しいと思われる答えに、○をしてください。では、始めて下さい。

やめて下さい。

これで、ペーパーBの問題は、終わりです。